

Zeka Testi-1 Soru Kitapçığı

Elektronik kitap formatında hazırlanan bu yayında yer alan tüm içerik sinavonline.net sitesine ait olup, izin alınmadan içeriğinin bir kısmı veya tamamı başka bir yayın ile dağıtım yapılamaz. İçeriğinde herhangi bir değişiklik yapılmaması kaydıyla bu elektronik kitabın serbest dağıtımına, eposta vb. araçlarla paylaşımına izin verilmiştir.

İçindekiler

Önsöz.....	4
IQ Testi.....	6
Cevap Anahtarı.....	10

Önsöz

Çocuklar hayatın en önemli unsurlarıdır. Anne ve babalar açısından olduğu kadar, aslında çocuklar toplumsal açıdan da en önemli bireylerdir ve kendilerine yeterli yatırımın yapılmasına önem verilmelidir.

Çocuklar söz konusu olduğunda, onlara dair fiziki ve zihinsel her anlamda sağlık en çok arzulanan hususlar arasındadır. Zihinsel sağlık denildiğinde, doğal olarak öne çıkan kavram, "zeka" kavramıdır. Yaşları ile doğru orantılı ölçüde zeka sahibi olup olmadıkları, doğumlarından itibaren yakından takip edilmektedir.

Çocukların zeka düzeylerinin doğuştan belirlenmiş olduğu ve kalıtsal bir husus olduğu düşüncesi son dönemlerde kabul görmeyen görüşler arasındadır. Özel eğitimler ile özellikle 0-4 yaş grubunda ağırlık verilerek zekanın geliştirilmesinin mümkün olduğu ispatlanmış konular arasında yer almaktadır. Bu nedenle bu yönde bir eksiklik ya da gerilik teşhis edilen çocuklar için annelerin ve babaların endişe etmesine mahal yoktur, ancak bu konunun önemsenmeyeceği anlamına kesinlikle gelmemeli, gerekli takip yapılarak zekanın ilerletilmesi yönünde bir sürece çocuğun sokulması gerekmektedir.

Çocukların zeka düzeylerinin ilerletilmesi için ebeveynlere yapılan tavsiyeler arasında öne çıkanlar şu şekildedir:

Oyun, çocukların en önemli öğrenme aracıdır. Her yaştaki çocuk ile anne ve babaların kaliteli zaman geçirmesi ve bu zamanın ağırlıklı olarak yaşına uygun oyunlara ayrılması önerilmektedir.

Dil gelişimine yönelik çalışmalar zekanın ilerlemesi açısından da önemlidir. Çocuğu küçük görerek onunla normalin dışında bir dil kullanılmamalı, herhangi bir yetişkin ile kullanılan kelimeler onun yaşına uygun bir içerik ile kullanılıyor olmalıdır.

Çocukların görsel, işitsel zekalarının gelişimi açısından bu yönde

hazırlanmış oyuncaklardan yararlanılmalı, onları oyuncaklarla yalnız bırakmayıp birlikte oyunlar oynanmalıdır.

Çocukların zeka gelişimlerine katkı sağlamak ve ilgi sahalarının artmasına yardımcı olmak düşüncesiyle bu soru kitapçığı hazırlanmıştır. Kitapçığındaki sorular özellikle 8, 9 ve 10 yaşındaki çocukların seviyesine uygun olarak hazırlanmıştır. Unutulmamalıdır ki; zeka kalıtsal yönü olmakla birlikte potansiyeli ortaya çıkartmak maksadıyla gelişime açıktır.

Faydalı olması dileğiyle sinavonline.net takipçilerine sunulur.

IQ Testi

1. Aşağıdaki hayvanlardan hangisi diğerlerinden farklıdır?

- a. Kedi
- b. Aslan
- c. Yılan
- d. Köpek

2. Aşağıdaki sayı dizisinde, soru işareti yerine gelebilecek sayı ne olmalıdır?

1-1-2-3-5-8-13-?

- a. 31
- b. 18
- c. 24
- d. 21

3. Aşağıdaki sayı dizisinde, soru işareti yerine gelebilecek sayı ne olmalıdır?

1-2-5-12-29-70-?

- a. 179
- b. 99
- c. 169
- d. 159

4. Aşağıdaki iki kelime arasındaki ilişkiye bakarak 44321 rakamıyla hangi sayının ilişkisi vardır?

VATAN – NATAV

- a. 12344
- b. 32144
- c. 34421
- d. 44123


5. Demet'in yaşı 16 olup, erkek karedeşinin yaşının 4 katıdır. Demet, kardeşinin yaşının 2 katı olduğunda, kaç yaşında olacaktır.

- a. 26
- b. 20
- c. 22
- d. 24


6. Aşağıdaki iki şekil birleştirildiğinde, hangi şekil oluşur?




a.




b.



c.



d.



7. EL ve PARMAK arasındaki ilişki dikkate alındığında, YAPRAK ile aşağıdakilerden hangisi arasında ilişki vardır?

- a. Dal
- b. Ağaç
- c. Gövde
- d. Tohum

8. 400 sayısının, $1/5$ 'inin, $1/4$ 'ünün 3 katı kaç eder?

- a. 80
- b. 60
- c. 40
- d. 50

9. Aşağıdaki sayı dizisinde uyumsuz olan (diziyi bozan) sayı hangisidir?

3-6-7-8-14-15-30

- a. 3
- b. 8
- c. 6
- d. 30

10. ELÇKAKANA harfleri düzene sokulduğunda aşağıdakilerden hangisi oluşur?

- a. Ülke
- b. Hayvan
- c. Akarsu
- d. İl

11. Aşağıdaki sayı dizisinde, soru işareti yerine gelebilecek sayı ne olmalıdır?

3 - 43 - 543 - ?543

- a. 4
- b. 5
- c. 6
- d. 7

12. Aşağıdaki sayı dizisinde, soru işareti yerine gelebilecek sayı ne olmalıdır?

8 - 9 - 11 - 15 - 23 - ?

- a. 27
- b. 35
- c. 31
- d. 39

13. Elimdeki çiçeklerin ikisi hariç hepsi papatya, ikisi hariç hepsi gül ve ikisi hariç hepsi karanfil olduğuna göre elimde hangi çiçekten kaç tane bulunmaktadır?

- a. 2 tane gül, 1 tane papatya, 3 tane karanfil
- b. 1 tane gül, 1 tane papatya, 1 tane karanfil
- c. 1 tane gül, 2 tane papatya, 2 tane karanfil
- d. 1 tane gül, 1 tane papatya, 2 tane karanfil

14. Mehmet, bulunduğu noktadan 2 blok kuzeye sonra 2 blok doğuya, sonra 3 blok güneye ve son olarak 2 blok batıya yürüyor. Mehmet, çıkış noktasından kaç blok mesafede bulunmaktadır?

- a. 1 blok
- b. 2 blok
- c. 3 blok
- d. 4 blok

15. Altı yüzlü standart bir zarda, karşılıklı yüzeylerdeki nokta sayılarının toplamı her zaman aynı sayıya eşittir. Buna göre 3 sayısının olduğu yüzeyin karşı yüzeyinde hangi sayı bulunur?



- a. 1
- b. 2
- c. 4
- d. 5

Cevap Anahtarı

1-C	11-C
2-D	12-D
3-C	13-B
4-A	14-A
5-B	15-C
6-D	
7-A	
8-B	
9-B	
10-D	

NOT: Açıklamalı çözümleri sinavonline.destek@gmail.com adresinden isteyebilirsiniz.